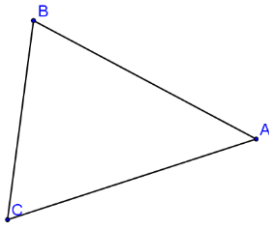


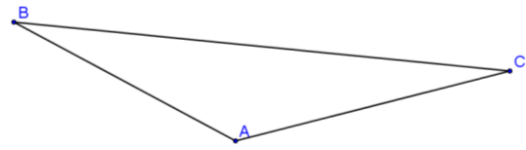
Calcule ce qui est demandé :



BA mesure 5 cm
 BC mesure 4 cm
 La hauteur issue de A mesure : 4.7 cm
 La hauteur issue de B mesure : 3.18 cm

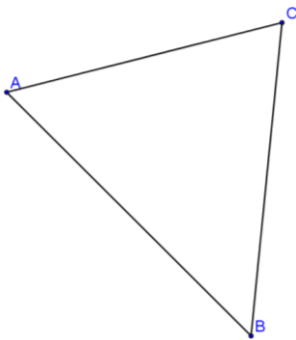
Quelle est l'aire du triangle ABC ?

Quelle est la longueur du côté AC ?



BC mesure 10 cm
 BA mesure 5 cm
 L'aire du triangle : 9.65 cm^2
 La hauteur issue de B mesure : 3.4 cm

Quelle est la longueur du côté AC ?



L'aire du triangle ABC est : 17 cm^2

Le côté BC mesure 6.33 cm

Dessine et calcule la longueur de la hauteur issue de A

1. L'aire du triangle ABC est : 9.4 cm^2
 Le côté AC mesure 5.9 cm
2. Le côté AC mesure 5.68 cm
3. La hauteur issue de A mesure 5.37 cm

