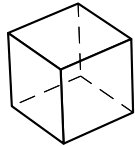




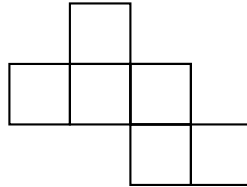
## Document 2

### Exercice 1

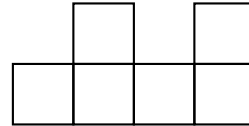
Trouve les deux assemblages de carrés qui permettent de construire un cube. Reproduis-les.



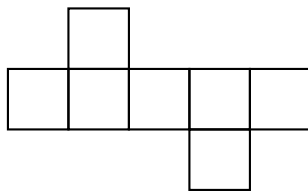
a



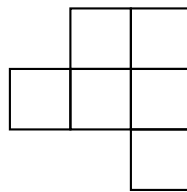
b



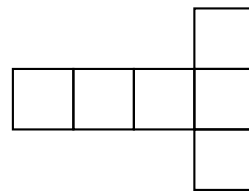
c



d

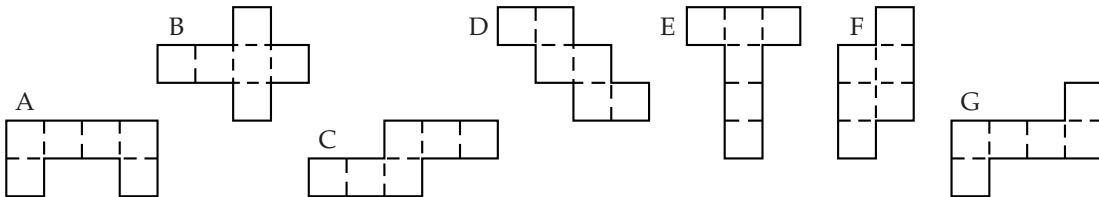


e



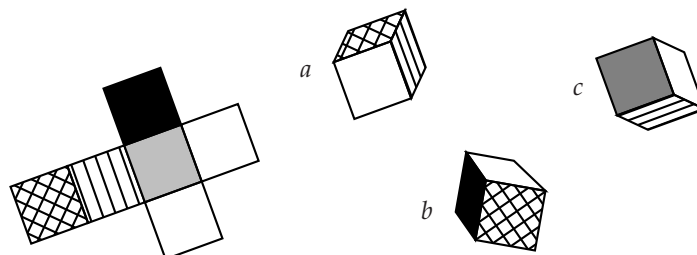
### Exercice 2

Quelles figures te permettent de reconstituer un cube? Vérifie en essayant de construire le cube, après avoir reproduit les figures. Utilise du papier quadrillé.

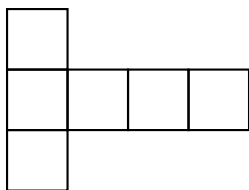


### Exercice 3

À quel cube correspond ce patron? Vérifie en construisant le cube après avoir reproduit le patron sur du papier quadrillé.



### Exercice 4



Sur un dé à jouer, la somme des points inscrits sur deux faces opposées est 7. Inscris les points sur le patron. Puis, vérifie tes prévisions en construisant le dé.