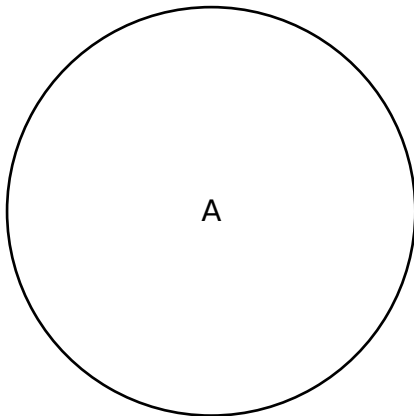
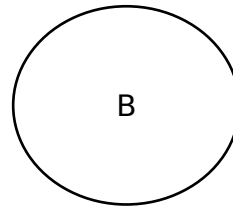


Calcule ce qui est demandé ?



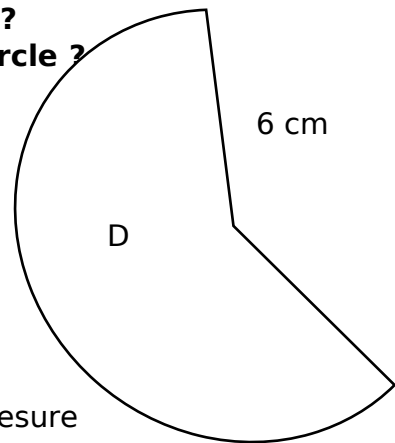
L'aire de ce disque mesure 25 cm^2



Ce cercle a un rayon de $4,2 \text{ cm}$

Quelle est l'aire de ce cercle ?

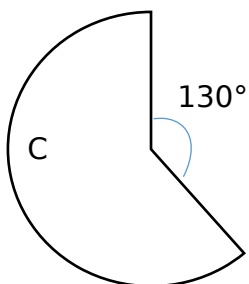
**Combien de décimètre mesure le rayon du cercle ?
Combien de centimètre mesure le diamètre du cercle ?**



Le périmètre du secteur mesure 33.132 cm

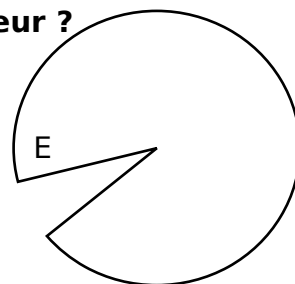
L'aire du secteur mesure 63.4 cm^2

Quel est l'angle du secteur ?



L'aire de ce secteur mesure 120 cm^2

Quelle est la longueur du rayon ?



Ce secteur a un rayon de 7 cm

Il est formé d'un cercle duquel on a enlevé un secteur de 20°

Quel est le périmètre du secteur dessiné ?

Quelle est l'aire du secteur dessiné ?

- A. 0.282 dm 5.64 cm
- B. 55.42 cm^2
- C. 7.73 cm
- D. 201.8°
- E. Périmètre : 55.54 cm Aire : 145.38 cm^2